

Московская олимпиада школьников

I этап

6 класс

1. Выберите по 1 верному ответу в каждом задании.

1.1. Назовите принцип, объединяющий этих людей. Траян, Август, Константин:

- а) это римские императоры
- б) это римские императоры, одержавшие в период правления выдающие военные победы
- в) это римские императоры, жестоко преследовавшие христиан
- г) это римские императоры, следствием правления которых стали гражданские войны

1.2. К правам и обязанностям народных трибунов в Древнем Риме не относится:

- а) право личной неприкосновенности
- б) обязанность защищать народ от произвола патрициев
- в) право на пожизненное занятие должности
- г) право налагать вето на любой закон, ущемлявший права народа

1.3. Найдите лишнее. Городской совет в средневековом городе:

- а) издавал законы
- б) ведал городской стражей и войсками
- в) устанавливал налоги
- г) принимал устав ремесленного цеха

1.4. В конце XI – XII вв. наиболее сильной королевская власть была:

- а) во Франции
- б) в Англии
- в) в Священной Римской империи
- г) в Италии

Ответы:

1.1. а; 1.2. в; 1.3. г; 1.4. б

2. Выберите несколько верных ответов в каждом задании:

2.1. Определите причины падения республики в Риме:

- а) усиление власти полководцев
- б) пунические войны
- в) распространение христианства
- г) гражданские войны
- д) создание наемной армии
- е) вторжение варварских племен
- ж) неспособность государства управлять огромной территорией

2.2. Определите причины крестовых походов:

- а) борьба городов за независимость
- б) стремление европейских правителей к захвату новых владений на Востоке
- в) междоусобные войны феодалов
- г) религиозные чувства западноевропейцев, искренне желавших освободить Гроб Господен от «неверных»
- д) распространение ересей
- е) желание папства расширить свою власть за счет новых территорий и увеличить свои доходы
- ж) стремление различных слоев населения Западной Европы обрести на Востоке богатства и земли

2.3. Из предложенных ниже утверждений верными являются:

- а) Итогом Четвертого Крестового похода стал захват Иерусалима и его разграбление.
- б) Церковь в Восточной Римской империи в средние века находилась под контролем государства и во многом зависела от императора.
- в) Ислам запрещал изображение Бога и поклонение каким-либо его изображениям.

- г) Победа франков при Пуатье не смогла остановить продвижение арабов в Западную Европу.
- д) В XIV-XV вв. усиливается власть Римских пап над светскими правителями.
- е) В Средневековье набор учебных предметов назывался «семь свободных искусств».
- ж) Община в Западной Европе не играла значимой роли в жизни крестьян.
- з) Готика – стиль архитектуры, который утвердился в свободных городах.

Ответы:

2.1. а,г,д,ж

2.2. б,г,е,ж

2.3. б,в,е,з

3. Установите соответствия.

3.1. Соотнесите текстовой фрагмент с соответствующим ему изображением.

1. В жилах его текла кровь северян викингов, потомком которых был его отец, и горячая кровь южных французов, от которых происходила его мать. Юный принц получил прекрасное образование, знал и ценил музыку, был неплохим поэтом. Вместе с тем, необыкновенно крепкий физически, он мастерски владел оружием, был заядлым охотником. После длительной борьбы со своим отцом он стал королем. И единственной заботой нового короля стала подготовка к выступлению против «неверных». Его поведением во время штурма Акры, его неукротимостью восторгались поэты. Во время возвращения домой, где младший брат готовил его ниспровержение, король попал в плен. Когда был собран огромный выкуп, короля передали его матери. Вернувшись в свои владения, король-рыцарь проявил великодушие по отношению к брату. Смерть же короля была нелепа и случайна.

2. «Наияснейший государь! Наше продажное, гордое, распутное и разнузданное духовенство обвиняет меня в ереси, дабы унизить меня в глазах народа и осудить... Горе мне, если буду молчать! Лучше умереть, чем остановиться на пути лукавства, потому что этот путь сделал бы меня участником неправды, а затем и ада... Я не намерен отступить от своего учения и веры в Евангелие Иисуса Христа...не могу отречься ни от одного положения, написанного мною или проповеданного».

3. Он родился в семье крестьянина. Волею обстоятельств его дядя, в прошлом простой пастух, был вознесен на императорский престол. В племеннике он видел своего наследника. Императорскую корону наш герой получил в 45 лет. За годы нахождения на престоле он добился многого: расширил территорию государства, упорядочил законодательство (юристы всего мира до сих пор изучают подготовленные по его велению книги), уделял много внимания строительству (повсеместно появлялись дворцы, храмы, крепости, новые дороги). Против него неоднократно вспыхивали восстания, т.к. цена успехов, достигнутых им, была высокой.

4. «Повелел он произвести по всей стране перепись, в которой бы значилось, сколько земли имел каждый из баронов его, сколько вассалов, сколько плугов, сколько животных, и сколько каждое владение может иметь доходов. И угнетена была земля многими бедствиями, отсюда проистекшими. В день Пятидесятницы в Вестминстере он почтил сына своего Генриха рыцарским вооружением. А немного спустя приказал, чтобы архиепископы, епископы, аббаты, графы, бароны, шерифы и рыцари их пришли к нему в августовские календы в Сальсбери. Когда же они пришли туда, заставил рыцарей принести клятву верности против всех людей».

5. «Благодаря войнам сначала присоединил Аквитанию, Саксонию и все от хребта Пиренейских гор до реки Ибера, потом - всю Италию, затем - Саксонию и многие другие земли. После этого - умножил славу царствования своего установлением дружбы с некоторыми государствами и народами. С халифом Харун-ар-Рашидом, царем персов, такое имел согласие в дружбе, что тот считал лишь одного его достойным даров и почета... Константинопольские императоры искали его дружбы и союза. Постоянно занятый расширением пределов королевства и подчинением соседних народов, он вместе с тем не упускал из внимания ничего, что относилось к пользе и украшению государства. На первое место среди подобных предприятий должны быть поставлены удивительной работы собор Богоматери в Ахене, мрамор для колонн которого специально вывозился из Рима и Равенны,

а также мост через Рейн у Могонтинака в пятьсот шагов длины. Начал он возводить и дворцы отличной архитектуры».

б. «Когда общины увидели, что их предводитель умер таким страшным способом, они пали на землю, громко умоляя короля о прощении им их преступлений. И король благосклонно даровал им прощение, и многие из них бросились бежать.. После этого король разослал своих посланцев по разным местам хватать злоумышленников и предавать их смерти. И многие были схвачены и повешены. И много виселиц было поставлено тогда вокруг Сити и в других городах в южной части страны. Наконец, С Божьего соизволения король увидел, что слишком много крови пролито, и он даровал им прощение под условием, что они никогда больше не будут восставать...»



А



Б



В



Г



Д

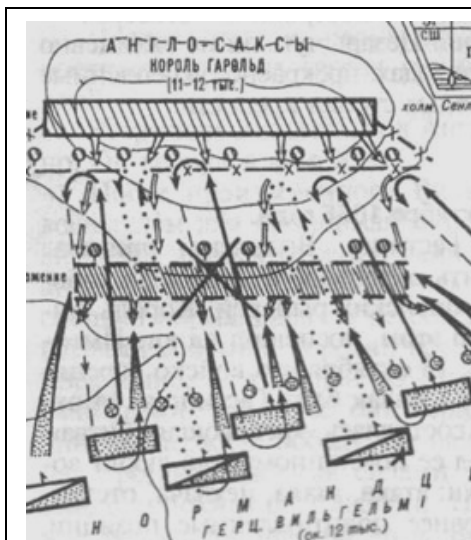


Е

Ответ: 1 - Б, 2 - Д, 3 - Г, 4 - А, 5 - В, 6 - Е

3.2. Соотнесите названия сражений древнеримской и средневековой истории со схемами этих сражений.

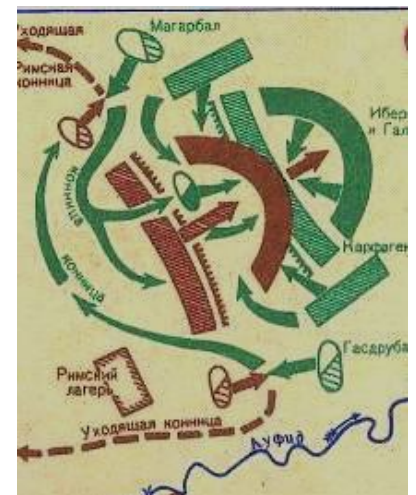
1. Битва при Каннах
2. Битва при Пуатье
3. Битва при Гастингсе
4. Битва у мыса Акции
5. Битва при Креси
6. Грюнвальдская битва



А



Б




В

<p>АНГЛИЙСКАЯ АРМИЯ король ЭДУАРД III</p> <p>а Кале</p> <p>ФРАЦУЗСКАЯ АРМИЯ король ФИЛИПП VI</p>	<p>Зеевальде</p> <p>Танненберг</p> <p>Заленрод</p> <p>Руска-литовская армия Витовта</p> <p>Польская армия Ягайло</p> <p>оз. Любень</p>	<p>Франки</p> <p>Рыцари</p> <p>Пехота</p> <p>Лучники</p> <p>Утро псово</p> <p>Де</p> <p>В по</p> <p>Аль Ансари</p> <p>Знамя пророка</p> <p>Лагерь</p>
Г	Д	Е


Ответ: 1 – В, 2 – Е, 3 – А, 4 – Б, 5 – Г, 6 – Д

3.3. Соотнесите с изображениями, обозначенными римскими цифрами, изображения, обозначенные арабскими цифрами.


I	II
1	2



3




4




5



6



7



8

Ответ: I- 1,4,5,8

II- 2,3,6,7

4. Вставьте вместо пропусков, пронумерованных цифрами, «крылатые выражения».

Немало выражений, которые мы используем в своей речи, связаны с историей Древнего Рима. О чем-то, доставшемся непомерно дорогой ценой, говорят: _____ **1** _____, когда узнают о предательстве друзей, свои чувства часто выражают фразой _____ **2** _____, непреклонную решимость бороться до конца называют _____ **3** _____, а так говорят о мелочах, которые могут привести к серьезным последствиям: _____ **4** _____, о решительном шаге, предпринятом человеком говорят: _____ **5** _____. Люди, имеющие не вполне чистый источник доходов, часто прикрываются фразой _____ **6** _____.

Средневековье также находит свое отражение в нашей речи и в оценке поступков людей. Испытавший унижение человек вспоминает об эпизоде, связанном с борьбой римских пап с императорами Священной Римской империи, вошедшим в историю под названием _____ **7** _____.

В недалеком прошлом действия фанатичных борцов за любые реакционные, не обязательно религиозные идеи называли _____ **8** _____. Произведения искусства, служащие образцом художественного совершенства и поныне называют _____ **9** _____.

Ответ

1. Пиррова победа
2. «И ты, Брут!»
3. Ганнибалова клятва
4. Гуси Рим спасли
5. Перейти Рубикон
6. Деньги не пахнут
7. Хождение в Каноссу
8. Крестовый поход
9. Шедевр

5. Из курса истории средних веков вы знаете, что города возникали чаще всего там, где можно было найти защиту: у стен замков, монастырей. Но одной безопасности было мало. Если замок или крепость находились вдали от торговых путей, мостов, переправ, города около них появлялись очень редко.

Ниже написан дословный перевод названий известных западноевропейских городов. Ваша задача написать рядом с переводом название этих городов.

1. Замок на дороге _____
2. Мост через реку Кем _____
3. Свободный брод _____
4. Мельничный дом _____
5. Гавань купцов _____
6. Новый замок _____
7. Мост _____
8. Бычий брод _____

Ответ:

1. Страсбург
2. Кембридж
3. Франкфурт
4. Мюльхаузен
5. Копенгаген
6. Ньюкасл
7. Брюгге
8. Оксфорд

6. Расположите события в хронологической последовательности.

1. Великая хартия вольностей
2. «Авиньонское пленение»
3. Завоевание Константинополя турками-османами
4. Первая пуническая война
5. Созыв первых Генеральных штатов во Франции
6. Разрушение Карфагена

7. Разграбление Рима готами
8. Окончание войны Алой и Белой роза
9. Казнь Жанны д'Арк
10. Первый крестовый поход

Ответ: 4-6-7-10-1-5-2-9-3-8

Часть В

1. «Расскажите, каким должен быть настоящий рыцарь», - попросили старого трубадура. «Хорошо», - ответил тот, но то ли по рассеянности, то ли намеренно допустил немало ошибок. Найдите эти ошибки.

Лишь тот достоин рыцарского званья,
 Кто превзошел других в образовании,
 Кто храбр и смел, красив, постиг науки,
 Кто трудится не покладая руки.
 Кто воинским искусством знаменит,
 Богат, силен, мастеровит,
 Кто думает о церкви – не о славе,
 Мечтает о прекрасной даме.
 И знает, как сберечь побольше денег,
 Чтоб старость протекла средь роскоши и неги.

Ответ. Ошибочные характеристики: кто превзошел других в образовании; постиг науки; трудится не покладая рук; богат, мастеровит; не думает о славе; знает, как сберечь побольше денег, что старость протекла средь роскоши и неги.

Рыцарский кодекс чести: мужество, храбрость, щедрость, куртуазность (любовь к прекрасной даме), сила.

2. Некоторые слова арабского происхождения вошли во многие европейские языки, в том числе и в русский. Заполните таблицу, вписав в соответствующие графы как можно больше слов, заимствованных из арабского языка.

Область общественной жизни	Слова арабского происхождения в русском языке
Наука	
Торговля	
Ремесло	
Культура, повседневная жизнь	
Социальные отношения	
Военное дело	

Ответ

Область общественной жизни	Слова арабского происхождения в русском языке
Наука	Алгебра, алгоритм, цифра, азимут, алхимия, анилин, бура, калий, натрий
Торговля	Тариф, магазин, бакалея, духан
Ремесло	Атлас, амбра, бисер, бязь
Культура, повседневная жизнь	Альманах, авария, азарт
Социальные отношения	Кабала
Военное дело	Адмирал, кинжал, арсенал

3. Победив своих противников в гражданских войнах, Цезарь в 45 г. до н.э. отпраздновал в Риме свой последний триумф. Однако этот триумф не обрадовал римлян, а крайне огорчил их. Объясните, почему римляне так отнеслись к последнему триумфу Цезаря?

Ответ: Этот триумф огорчил римлян, т.к. это была победа над гражданами своего государства.

4. Иллюстрируя книгу по истории средних веков, художник изобразил средневековый город XIII в. и его жителей. Но он допустил несколько ошибок. Найдите эти ошибки.



Ответ: 4 ошибки: 1) в центре городской площади средневекового города XIII в. не могло стоять скульптуры Аполлона Бельведерского; 2) на городской площади не мог стоять крестово-купольный православный собор (Архангельский собор Московского Кремля); 3) среди гуляющих по площади жителей города не мог быть человек в античной одежде; 4) на доме римскими цифрами написан год строительства дома – 710 г.